



DO NOT OPEN THIS TEST BOOKLET UNTIL YOU ARE TOLD TO DO SO

	TEST BOOKLET OF EXAMINATION FOR ASSISTANT MANAGER	TEST BOOKLET SERIES <b>A</b>
TIME ALLOWED: 02.30 HOURS		MAXIMUM MARKS: 150

### IMPORTANT INSTRUCTIONS

1. IMMEDIATELY AFTER THE COMMENCEMENT OF EXAMINATION, YOU SHOULD CHECK THAT THIS TEST BOOKLET CONTAINING 150 QUESTIONS IN ENGLISH & HINDI LANGUAGES (EXCEPT 30 QUESTIONS OF ENGLISH LANGUAGE) DOES NOT HAVE ANY UNPRINTED OR TORN OR MISSING PAGE(S) OR ITEM(S), ETC. IF SO, GET IT REPLACED BY A COMPLETE NEW TEST BOOKLET OF THAT SERIES.
2. You have to enter your Roll Number with blue or black ball point pen in the rectangular Box of the Test Booklet provided alongside.  DO NOT write anything else on this Test Booklet.
3. You have to mark / encode all your responses / answers ONLY on the separately provided OMR Answer Sheet. Read 'Instructions for filling the Sheet' printed on this sheet.
4. Before you proceed to encode the answers of the questions given in the Test Booklet on the OMR Answer Sheet with blue or black point ball pen you have to fill your Roll Number, Application No., Booklet Series, Name of Paper, Code & Examination Centre in the rectangle boxes provided on this sheet.
5. Please note that it is the candidate's responsibility to encode the circles of the Roll Number, Test Booklet Series (A / B / C / D) and Application No. with blue or black ball point pen without any omission or discrepancy. Any omission / discrepancy will render his / her OMR Answer Sheet liable for rejection.
6. Each item / question of the Test Booklet comprises four responses (answers). You will have to select the correct response / answer which you want to encode on the OMR Answer Sheet. In case you feel that for the given question there is more than one correct response / answer, mark the response / answer which you consider the best. In any case, choose ONLY ONE response / answer for each item / question & encode accordingly in the sheet.
7. All items carry equal marks.
8. After you have completed filling in all your responses on the OMR Answer Sheet and the screening test has concluded, you should hand over to the Invigilator only the Original Copy of the OMR Answer Sheet. You are permitted to take away with you the Test Booklet & Candidate's Copy of the OMR Answer Sheet.
9. Sheet(s) for rough work is appended at the end of the Test Booklet.
10. Note:- There will be negative marking for incorrect answers (as detailed below) for all objective questions:
  - (a) There are four alternatives for the answers to every question. For each question for which a wrong answer has been given by the candidate, one fourth of the marks assigned to that question will be deducted as penalty.
  - (b) If a candidate gives more than one answer, it will be treated as wrong answer even if one of the given answers happen to be correct and there will be same penalty as above for that question.
  - (c) If a question is left blank i.e. no answer is given by the candidate, there will be no penalty for that question.
  - (d) Where there will be two correct answers instead of one correct answer out of four options of a question, all those candidates who will encode any one of these two correct answers will be awarded marks allotted to that question.
11. In case of any discrepancy found in English and Hindi versions of the question, the English version may be treated as correct and final.

USE OF MOBILE PHONE OR ANY COMMUNICATION DEVICE IS BANNED IN THE  
EXAMINATION

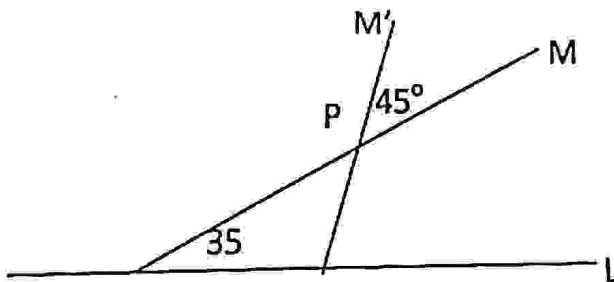
1	Which of the following word is correctly spelt?			
	(a)	(b)	(c)	(d)
	Randezvous	Rendezvous	Rendevous	Randavous
2	Which of the following word is correctly spelt?			
	(a)	(b)	(c)	(d)
	Ecclesiastical	Eclesiastical	Ecclastical	Eclesistical
3	Which of the following word is nearest in meaning to 'adumbrate'?			
	(a)	(b)	(c)	(d)
	Adamant	Declare	Portend	Explicate
4	Which of the following word is incorrectly spelt?			
	(a)	(b)	(c)	(d)
	Parsimonious	Orthopeaedist	Exuberance	Nonplussed
5	Which of the following word is nearest in meaning to 'peracious'?			
	(a)	(b)	(c)	(d)
	Cautious	Superficial	Ostentatious	Virulent
6	Which of the following word is opposite in meaning to 'frivolous'?			
	(a)	(b)	(c)	(d)
	Frolicsome	Perky	Solemn	Petty
7	Which of the following is opposite in meaning to 'abjure'?			
	(a)	(b)	(c)	(d)
	Abnegate	Affirm	Forswear	Reneg
8	Which of the following word is nearest in meaning to 'complacent'?			
	(a)	(b)	(c)	(d)
	Sluggish	Smug	Conscientious	Diligent
9	Re-arrange the jumbled parts of a sentence labelled as (P,Q,R,S) to make a grammatically correct sentence and tick mark the correct sequence (a, b, c, d) given below: <u>it is a fact that wheat is one of the most prolific</u> <u>than almost any other</u> P Q <u>crop</u> <u>yielding a greater return per acre</u> <u>of food crops</u> R S			
	(a)	(b)	(c)	(d)
	PSRQ	QRSP	PRQS	QSPR
10	Which of the following word is opposite in meaning to 'inadvertent'?			
	(a)	(b)	(c)	(d)
	Fortuitous	Accidental	Inconsequential	Deliberate
11	Re-arrange the jumbled parts of a sentence labelled as (P,Q,R,S) to make a grammatically correct sentence and tick mark the correct sequence (a, b, c, d) given below: <u>the Beggar sat down</u> <u>to rest</u> <u>by the road side</u> <u>being weary</u> P Q R S			
	(a)	(b)	(c)	(d)
	RQSP	SQPR	SPQR	PRSQ
12	Which of the following word is opposite in meaning to 'eulogy'?			
	(a)	(b)	(c)	(d)
	Paeon	Commendation	Condemnation	Approbation
13	Re-arrange the jumbled parts of a sentence labelled as (P,Q,R,S) to make a grammatically correct sentence and tick mark the correct sequence (a, b, c, d) given below: <u>the prize money</u> <u>for refusing him</u> <u>Samsung was ordered to</u> <u>compensate the man</u> P Q R S			
	(a)	(b)	(c)	(d)
	QPSR	RSQP	SRPQ	RPSQ



14	In my previous job I was allowed only one twenty minutes ____.			
	(a)	(b)	(c)	(d)
	brake	brakes	break	breaks
15	It was due to his lethargy that the plan fell ____.			
	(a)	(b)	(c)	(d)
	by	on	through	at
16	The employees said that they were no longer prepared to ____ the ways of the new CEO.			
	(a)	(b)	(c)	(d)
	put up with	put on with	put up to	put over with
17	The boat as well its crew ____ gone to the bottom of the river.			
	(a)	(b)	(c)	(d)
	has	have	might	are
18	Fifty years ____ half a century.			
	(a)	(b)	(c)	(d)
	make	made	makes	is made
19	____ it was raining, Roy went out without a raincoat.			
	(a)	(b)	(c)	(d)
	Even	Since	Until	Although
20	Can you pay ____ all these articles?			
	(a)	(b)	(c)	(d)
	out	off	for	of
21	Ajay and Vijay are fast friends; the former is very stout, the ____ is very slim.			
	(a)	(b)	(c)	(d)
	later	latter	latest	other
22	If you come here in the morning, you ____ clouds all over the valley.			
	(a)	(b)	(c)	(d)
	would found	would have found	finds	will find
23	'A culture vulture' means			
	(a)	(b)	(c)	(d)
	Someone who is very keen to experience art and literature	Someone who defends ancient culture	Someone who destroys ancient culture	Someone who is a staunch critic of one's own culture
24	'To cry for moon' means			
	(a)	(b)	(c)	(d)
	To come to nothing	To jump very high	To speak very loudly	To desire an impossible thing
25	'Cook the Books' means			
	(a)	(b)	(c)	(d)
	To concoct a false story	To be audacious	To record false information in the accounts of an organisation	To do something to spoil someone's plan
26	'Rap on the knuckles' means			
	(a)	(b)	(c)	(d)
	Severe criticism	Appreciation	Rap on the rocks	Rap song on the bulge
27	Which of the following part has an error?			
	(a)	(b)	(c)	(d)
	Every man, woman and child	are now aware of	the adverse effects	of the habit of smoking.
28	Which of the following part has an error?			
	(a)	(b)	(c)	(d)
	Being a rainy day	we did not feel like	going out or doing anything	except watching a movie in our room
29	Which of the following part has an error?			

(a)		(b)		(c)		(d)	
I was watching an interesting Television programme		when the phone rang		and unwillingly, I got up		and gone there to answer it.	
30	Which of the following part has an error?						
(a)		(b)		(c)		(d)	
It is better to keep		one's head in the face of danger		than losing one's courage		and getting panicky.	
31	How many integer values of x and y satisfy the expression $4x+7y=3$ where $ x <1000$ and $ y <1000$ x और y के कितने पूर्णांक मान $4x + 7y = 3$ एक्सप्रेशन को संतुष्ट करते हैं जहाँ $ x  < 1000$ और $ y  < 1000$						
(a)		(b)		(c)		(d)	
285		284		286		287	
32	The infinite sum of the series $1/1 + 1/3 + 1/6 + 1/10 + 1/15 + \dots$ is श्रृंखला का अनंत योग $1/1 + 1/3 + 1/6 + 1/10 + 1/15 + \dots$ है						
(a)		(b)		(c)		(d)	
4		3		2.25		2	
33	Three years ago, the average age of A, B and C was 27 years and that of B and C, 5 years ago was 20 years. A's present age is: तीन साल पहले ए, बी और सी की औसत आयु 27 साल थी और बी और सी की 5 साल पहले 20 साल थी। ए की वर्तमान आयु है:						
(a)		(b)		(c)		(d)	
40		48		30		35	
34	If a man decides to travel 80 kms in 8 hours partly by foot and partly on a bicycle, his speed on foot being 8 km/hr. and that on bicycle being 16 km/hr. what distance would he travel on foot? यदि कोई व्यक्ति 8 घंटे में आंशिक रूप से पैदल और साइकिल से 80 किमी की यात्रा तय करता है। पैदल और साइकिल पर उसकी गति 8 किमी / घंटा और 16 किमी / घंटा है तो वह पैदल कितनी दूरी तय करेगा?						
(a)		(b)		(c)		(d)	
48 km.		54 km		42 km		60 km	
35	Abdul goes to the market to buy bananas. If he can bargain and reduce the price per dozen by Rs.2, he can buy 3 dozen bananas instead of 2 dozen with the money he has. How much money does he have? अब्दुल केले खरीदने बाजार जाता है। यदि वह सौदेबाजी करके 2 रुपये प्रति दर्जन की दर से कीमत कम कर सकता है, तो वह अपने पास मौजूद धन के साथ 2 दर्जन के बजाय 3 दर्जन केले खरीद सकता है। उसके पास कितना पैसा है?						
(a)		(b)		(c)		(d)	
Rs.18		Rs.14		Rs.12		Rs.10	
36	What is 20% of 50% of 75% of 70? (70 के 75% में से 50% का 20% क्या है?)						
(a)		(b)		(c)		(d)	
5.12		5.25		6.75		6.24	
37	A dealer sold two TV sets for Rs.2400 each, gaining 20% on one, and losing 20% on the other. Find the net gain or net loss? एक डीलर ने दो टीवी सेट रु2400 में प्रत्येक को बेचा, एक पर 20% लाभ प्राप्त किया, और दूसरे पर 20% हानि हुई। शुद्ध लाभ या शुद्ध हानि ज्ञात कीजिये?						
(a)		(b)		(c)		(d)	
Rs.300 loss (हानि)		Rs.200 gain (लाभ)		Rs.300 gain (लाभ)		Rs.200 loss (हानि)	
38	If the compound interest on a certain sum for 2 years is Rs.21, what could be the simple interest? यदि 2 वर्ष के लिए निश्चित राशि पर चक्रवृद्धि व्याज रु21 है, तो साधारण व्याज क्या हो सकता है?						
(a)		(b)		(c)		(d)	
रु 21		रु 20		रु 23		रु 26	
39	If two numbers are in the ratio of 5:8 and if 9 be added to each, the ratio becomes 8:11. Find the lower number. यदि दो संख्याएँ 5:8 के अनुपात में हैं और यदि 9 को प्रत्येक में जोड़ा जाता है, तो अनुपात 8:11 हो जाता है। निम्न संख्या ज्ञात कीजिए।						





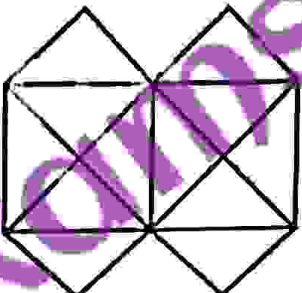
	(a)	(b)	(c)	(d)
	24	15	20	18
40	6 men can do a piece of work in 12 days. How many men can do the work in 18 days? 6 आदमी 12 दिनों में एक काम कर सकते हैं। 18 दिनों में कितने आदमी वह काम कर सकते हैं?			
	(a)	(b)	(c)	(d)
	2 men (आदमी)	6 men (आदमी)	3 men (आदमी)	4 men (आदमी)
41	The length of the minute hand of a clock is 8 cm. Find the distance travelled by it's outer end in 15 minutes. एक घड़ी के मिनट सुई की लंबाई 8 सेमी है। 15 मिनट में इसके बाहरी छोर से यात्रा की दूरी का पता लगाएं।			
	(a)	(b)	(c)	(d)
	$16\pi$ cm. (सेमी)	$12\pi$ cm. (सेमी)	$8\pi$ cm. (सेमी)	$4\pi$ cm. (सेमी)
42	Find the value of the expression $1 - 6 + 2 - 7 + 3 - 8 + \dots$ व्यंजक $1 - 6 + 2 - 7 + 3 - 8 + \dots$ का मूल्य ज्ञात कीजिए।			
	(a)	(b)	(c)	(d)
	-250	-500	-450	-300
43	A sphere of diameter 112.6 cm is melted and cast into a right circular cone of height 25.2 cm. Find the diameter of the base of the cone. 112.6 सेमी व्यास का एक गोला पिघलाया जाता है और 25.2 सेमी की ऊंचाई के लंब वृत्तीय शंकु में ढाला जाता है। शंकु के आधार का व्यास ज्ञात कीजिए।			
	(a)	(b)	(c)	(d)
	158.76 cm. (सेमी)	39.64 cm. (सेमी)	152.28 cm. (सेमी)	79.38 cm. (सेमी)
44	The perimeter of an equilateral triangle is $72\sqrt{3}$ cm. Find its height. एक समबाहु त्रिभुज की परिधि $72\sqrt{3}$ सेमी है। इसकी ऊंचाई ज्ञात कीजिए।			
	(a)	(b)	(c)	(d)
	63 meters (मीटर)	24 meters (मीटर)	18 meters (मीटर)	36 meters (मीटर)
45	What will be the circumcenter of a triangle whose sides are $3x - y + 3 = 0$ , $3x + 4y + 3 = 0$ , $x + 3y + 11 = 0$ ? एक त्रिभुज की परिधि क्या होगी जिसकी भुजाएँ $3x - y + 3 = 0$ , $3x + 4y + 3 = 0$ , $x + 3y + 11 = 0$ हों?			
	(a)	(b)	(c)	(d)
	(3, -3)	(2, -2)	(-3, 3)	(-2, 2)
46	What will be the length of the perpendicular drawn from the point (4, 5) upon the straight line $3x + 4y = 10$ ? सीधी रेखा $3x + 4y = 10$ पर बिंदु (4, 5) से खींचे गए लंबवत की लम्बाई क्या होगी?			
	(a)	(b)	(c)	(d)
	$12/5$	$32/5$	$22/5$	$42/5$
47	The angle between lines L and M measures $35^\circ$ . If line M is rotated $45^\circ$ counter clockwise about a point P to the line M', what is the angle in degrees between L and M'? लाइनों L और M के बीच का कोण $35^\circ$ है। यदि लाइन M को बिंदु P से लाइन M' की ओर $45^\circ$ काउंटर क्लॉकवाइज घुमाया जाता है, तो L और M' के बीच का कोण क्या है?			
	(a)	(b)	(c)	(d)
	$90^\circ$	$80^\circ$	$75^\circ$	$60^\circ$



48	<p>If <math>f(x) = 1/x</math>, <math>g(x) = 1/(1-x)</math> and <math>h(x) = x^2</math>, then what is <math>f(g(h(2)))</math>?  यदि <math>f(x) = 1/x</math>, <math>g(x) = 1/(1-x)</math> और <math>h(x) = x^2</math>, तब <math>f(g(h(2)))</math> क्या होगा?</p>			
	(a)	(b)	(c)	(d)
	-1	1	$1/2$	-3
49	<p>Solve the inequality <math> x^2 - x  &lt; x</math> (असमानता <math> x^2 - x  &lt; x</math> हल करें)</p>			
	(a)	(b)	(c)	(d)
	$1 < x < 3$	$-1 < x < 3$	$x > 3$	$0 < x < 4$
50	<p>Find the maximum value of the expression <math>\frac{1}{x^2+5x+10}</math>  (एक्सप्रेशन <math>\frac{1}{x^2+5x+10}</math> का अधिकतम मूल्य ज्ञात कीजिए)</p>			
	(a)	(b)	(c)	(d)
	$15/2$	$4/15$	1	$1/3$
51	<p>If <math>7^{x+1} - 7^{x-1} = 48</math>, find x. (यदि <math>7^{x+1} - 7^{x-1} = 48</math>, तो x का मान ज्ञात करें)</p>			
	(a)	(b)	(c)	(d)
	1	2	7	-7
52	<p>In how many ways can 4 Indians and 4 Nepalese people be seated around a round table so that no two Indians are in adjacent positions?  4 भारतीय और 4 नेपाली लोग कितने तरीकों से एक गोल मेज के चारों ओर बैठ सकते हैं ताकि कोई भी दो भारतीय सटे हुए स्थिति में न हों?</p>			
	(a)	(b)	(c)	(d)
	188	122	111	144
53	<p>There are 25 points on a plane out of which 7 are collinear. How many straight lines can be formed?  एक तल पर 25 बिंदु हैं जिसमें से 7 कोलिनियर हैं। कितनी सीधी रेखाएँ बन सकती हैं?</p>			
	(a)	(b)	(c)	(d)
	280	7	300	250
54	<p>The probability that A can solve a problem is <math>2/3</math> and B can solve the problem is <math>3/4</math>. If both of them attempt the problem, then what is the probability that the problem gets solved?  A द्वारा समस्या को हल करने की सम्भावना <math>2/3</math> है और B द्वारा समस्या को हल करने की सम्भावना <math>3/4</math> है। यदि वे दोनों समस्या को हल करने का प्रयास करते हैं, तो क्या सम्भावना है कि समस्या हल हो जाए?</p>			
	(a)	(b)	(c)	(d)
	$11/12$	$10/11$	$1/2$	$11/13$
55	<p>How many number of 9s used in numbering a 453 page book?  453 पेज की किताब में कितनी बार 9 नंबर का इस्तेमाल किया गया?</p>			
	(a)	(b)	(c)	(d)
	87	86	84	85
56	<p>Which term comes next in the series: YEB, WFD, UHG, SKI, ... ?  श्रृंखला में अगला शब्द कौन सा आता है: YEB, WFD, UHG, SKI, ...</p>			
	(a)	(b)	(c)	(d)
	QOL	QGL	TOL	QNL
57	<p>Giant: Dwarf :: Genius:?</p>			
	(a)	(b)	(c)	(d)
	Wicked	Gentle	Idiot	Tiny
58	<p>Pick the odd one from the following: (निम्नलिखित में से विषम को चुनें)</p>			
	(a)	(b)	(c)	(d)
	Arc (चाप)	Diagonal (विकर्ण)	Tangent (स्पर्शरेखा)	Radius (त्रिज्या)
59	<p>If POND is coded as RSTL, then how is HEAR written in that code?  यदि POND को RSTL के रूप में कोडित किया जाता है, तो उस कोड में HEAR कैसे लिखा जाता है?</p>			
	(a)	(b)	(c)	(d)
	GHIJ	GHIZ	JIGZ	JCLZ

60	Pointing to a lady, a man says, "The son of her only brother is the brother of my wife". How is the lady related to the man? एक महिला की ओर इशारा करते हुए, एक आदमी ने कहा, "उसके इकलौते भाई का बेटा मेरी पत्नी का भाई है"। महिला पुरुष से कैसे संबंधित है?	(a)	(b)	(c)	(d)												
	Mother's sister माँ की बहन	Grandmother दादी	Mother-in-law साम	Sister of father-in-law ससुर की बहन													
61	A man is facing South. He turns $135^\circ$ in the anti clockwise direction and then $180^\circ$ in the clockwise direction. Which direction is he facing now? एक आदमी दक्षिण का सामना कर रहा है। वह $135^\circ$ एंटी क्लॉक वाइज दिशा में और फिर $180^\circ$ क्लॉक वाइज दिशा में मुड़ जाता है। अब वह किस दिशा का सामना कर रहा है?	(a)	(b)	(c)	(d)												
	North-east (उत्तर-पूर्व)	North-west (उत्तर-पश्चिम)	South-east (दक्षिण पूर्व)	South-west (दक्षिण-पश्चिम)													
62	Which is the last word if the following words are arranged alphabetically: Transmit, Transplant, Transport, Translate? अगर Transmit, Transplant, Transport, Translate शब्दों को वर्णानुक्रम में व्यवस्थित किया जाए तो अंतिम शब्द कौन सा है?	(a)	(b)	(c)	(d)												
	Transport	Transmit	Transplant	Translate													
63	If the following series is written in the reverse order, which number will be fourth to the right of the seventh number from left? 7, 3, 9, 7, 0, 3, 8, 4, 6, 2, 1, 0, 5, 11, 13 यदि उपरोक्त श्रृंखला को उल्टे क्रम में लिखा गया है, तो कौन सी संख्या बाएँ से सातवें नंबर के दाईं ओर चौथे स्थान पर होगी?	(a)	(b)	(c)	(d)												
	0	5	9	11													
64	In an imaginary language the digits 0, 1, 2, 3, 4, 5, 6, 7, 8 and 9 are represented by a, b, c, d, e, f, g, h, i and j and 10 is represented as ba. Then the expression $dc \times f - (bf - d) \times d$ is equal to: एक काल्पनिक भाषा में अंक 0, 1, 2, 3, 4, 5, 6, 7, 8 और 9 को a, b, c, d, e, f, g, h, i और j और 10 को ba द्वारा दर्शाया जाता है। तब एक समीकरण $dc \times f - (bf - d) \times d$ के बराबर है:	(a)	(b)	(c)	(d)												
	abb	abe	bee	bcf													
65	In a group of 15 people, 7 read French, 8 read English, while 3 of them read none of the two. How many of them read French and English both? 15 लोगों के समूह में, 7 ने फ्रेंच पढ़ा, 8 ने अंग्रेजी पढ़ी, जबकि उनमें से 3 ने दोनों में से कोई भी नहीं पढ़ा। उनमें से कितने फ्रेंच और अंग्रेजी दोनों पढ़ते हैं?	(a)	(b)	(c)	(d)												
	0	3	4	5													
66	What is the number in ? ( ? में संख्या क्या है?)	<table> <tr><td>1</td><td>2</td><td>3</td></tr> <tr><td>4</td><td>5</td><td>6</td></tr> <tr><td>7</td><td>8</td><td>9</td></tr> <tr><td>27</td><td>38</td><td>?</td></tr> </table>				1	2	3	4	5	6	7	8	9	27	38	?
1	2	3															
4	5	6															
7	8	9															
27	38	?															
	(a)	(b)	(c)	(d)													
	49	50	51	52													
67	Which box from the Answer Figure will be the next in the series of the Problem Figure? उत्तर चित्रा से कौन सा बॉक्स समस्या चित्र की श्रृंखला में अगला होगा?	<div> <div> <b>Problem Figure</b> </div> <div> <b>Answer Figure</b> </div> </div>															



	A	B	C	D	1	2	3	4
	(a)	(b)	(c)	(d)				
	1	2	3	4				
68	<p>Select the exclusively different figure from the following:</p> <p>निम्नलिखित में से विशेष रूप में भिन्न आकृति का चयन करें:</p> <div style="display: flex; justify-content: space-around; align-items: center;"> <div style="text-align: center;">  1 </div> <div style="text-align: center;">  2 </div> <div style="text-align: center;">  3 </div> <div style="text-align: center;">  4 </div> </div>							
	(a)	(b)	(c)	(d)				
	1	2	3	4				
<p>Instructions for Q. No. 69 to 71. Look at the following figure:</p> <p>प्रश्न संख्या 69 से 71 के लिए निर्देश। निम्नलिखित आकृति को देखें:</p> <div style="text-align: center;">  </div>								
69	<p>What is the minimum number of straight lines to construct the figure?</p> <p>आकृति बनाने के लिए सीधी रेखाओं की न्यूनतम संख्या क्या है?</p>							
	(a)	(b)	(c)	(d)				
	11	13	15	21				
70	<p>Count the number of triangles in the figure. (आकृति में त्रिकोणों की संख्या की गणना करें।)</p>							
	(a)	(b)	(c)	(d)				
	12	20	22	24				
71	<p>How many squares does the figure contain? (आकृति में कितने वर्ग हैं?)</p>							
	(a)	(b)	(c)	(d)				
	5	6	7	8				
72	<p>Mirror image of ELEPHANT is: (ELEPHANT की दर्पण छवि है:)</p>							
	(a)	(b)	(c)	(d)				
	TLAHP3LE	TLAHP3LE	TLAHP3LE	TLAHP3LE				
73	<p>The two words <i>Eyes: Tears</i> have a certain relationship to each other. Select which option has the same relationship as the given pair of words.</p> <p>दो शब्द आँखें: आंसु का एक दूसरे से एक निश्चित संबंध है। चुने कि किस विकल्प में शब्दों की जोड़ी के समान संबंध है।</p>							
	(a)	(b)	(c)	(d)				
	Sea : Water समुद्र : जल	Volcano : Lava ज्वालामुखी : लावा	Heart : Artery हृदय : धमनी	Hunger : Bread भूख : रोटी				
74	<p>Pick the odd one out of the following: (निम्नलिखित में से विषम को चुनें:)</p>							
	(a)	(b)	(c)	(d)				
	Morarji Desai मोरारजी देसाई	Jawaharlal Nehru जवाहरलाल नेहरू	Lal Bahadur Shastri लाल बहादुर शास्त्री	S. Radhakrishnan एम. राधाकृष्णन				
75	<p>BEGK is related to ADFJ in the same way as PSVY is related to _____ ?</p> <p>BEGK का संबंध ADFJ से वैसा है जैसा PSVY का _____ से संबंधित है?</p>							
	(a)	(b)	(c)	(d)				

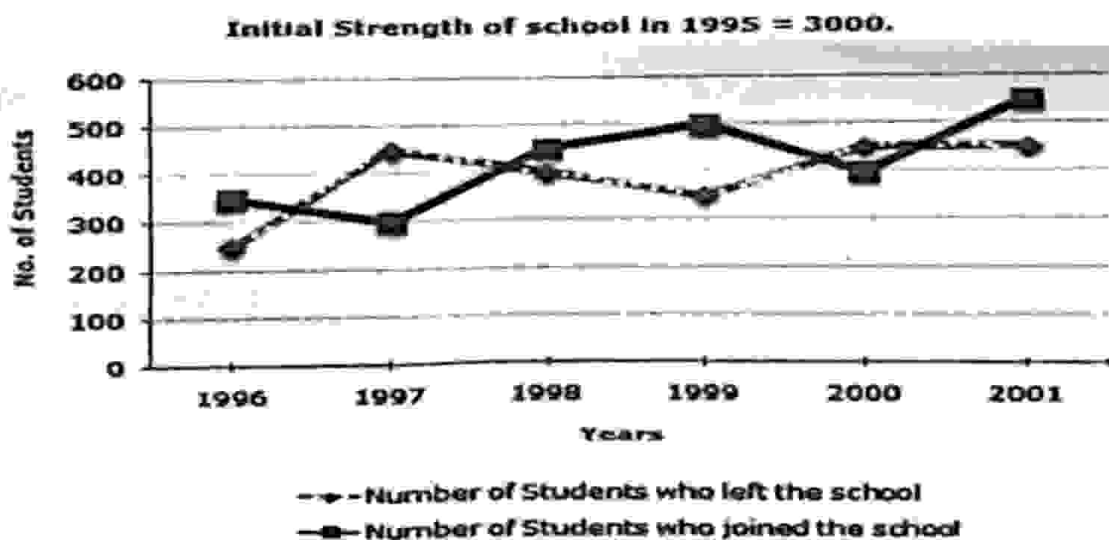


	LOQT	ROUX	OTUZ	ORUX
76	Which number is like the given set of numbers = {3, 17, 31} ? कौन सा नंबर दिए गए सेट के समान है = {3, 17, 31} ?			
	(a)	(b)	(c)	(d)
	5	15	10	45
77	Choose the odd pairs of words: (शब्दों के विषम जोड़े चुनें:)			
	(a)	(b)	(c)	(d)
	Cow : calf गाय : बछड़ा	Lion : cub शेर : शाबक	Tortoise : turtle कछुआ : कछुआ	Dog : bitch कुत्ता : कुतिया
78	Choose the number which is different from the group. (वह संख्या चुनें जो समूह से अलग है।)			
	(a)	(b)	(c)	(d)
	48	50	82	170
79	Out of these groups of alphabets, find the odd group. वर्णमाला के इन समूहों में से, विषम समूह का पता लगाएँ।			
	(a)	(b)	(c)	(d)
	MEWGN	PBQTX	DRYSN	CGHKV
80	If E = 5, PEN = 35, then PAGE = ? (यदि E = 5, PEN = 35, तो PAGE = ?)			
	(a)	(b)	(c)	(d)
	27	28	29	30

Directions for Question Nos.81 to 83:

प्रश्न संख्या 81 से 83 के लिए दिशा-निर्देश:

Study the following line chart, which gives the number of students who joined and left the school in the beginning of year for six years, from 1996 to 2001. Answer the questions that follows.



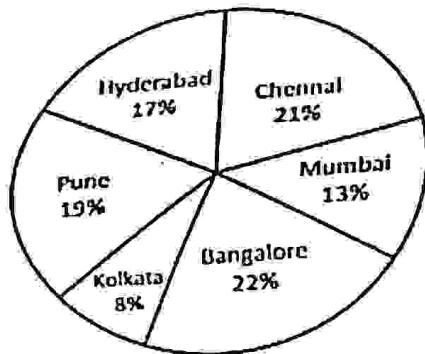
उपरोक्त लाइन चार्ट का अध्ययन करें, जो 1996 से 2001 तक साल के आरम्भ में छह साल के लिए स्कूल में शामिल होने और छोड़ने वाले छात्रों की संख्या दर्शाता है। इस प्रकार निम्नलिखित प्रश्नों के उत्तर दें।

81	The ratio of the least number of students who joined the school to the maximum number of students who left the school in any of the years during the given period is? दी गई अवधि के दौरान किसी भी वर्ष में सबसे कम संख्या में स्कूल में शामिल और छोड़ने वाले छात्रों की अधिकतम संख्या का अनुपात क्या है?			
	(a)	(b)	(c)	(d)
	7:9	4:5	2:3	3:5
82	The number of students studying in the school during 1998 was? 1998 के दौरान स्कूल में पढ़ने वाले छात्रों की संख्या कितनी थी?			
	(a)	(b)	(c)	(d)

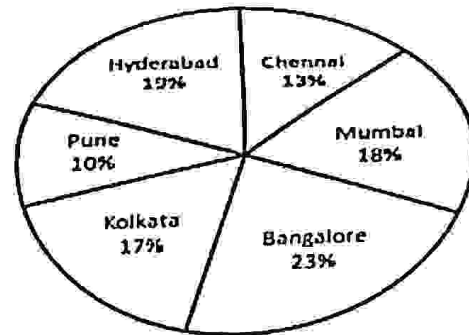
	2950	3000	3150	3100
83	During which of the following pairs of years, the strength of the school was same? निम्नलिखित में से किन वर्षों में स्कूल में छात्रों की संख्या समान थी?			
	(a)	(b)	(c)	(d)
	1996 and / और 2000	1997 and / और 1998	1999 and / और 2001	1998 and / और 2000
<p>Directions for Question No.84 to 86: प्रश्न संख्या 84 से 86 के लिए दिशा-निर्देश:</p> <p>Analyze the following pie chart and answer the questions given below. Given is the distribution of the monthly family budget of a person X. The total earnings of person X are Rs.3600 per month basic, plus 10% as transport and meals allowance on the monthly salary. निम्नलिखित पाई चार्ट का विश्लेषण करें और नीचे दिए गए प्रश्नों के उत्तर दें। यह देखते हुए कि किसी व्यक्ति के मासिक वजत का वितरण X है। व्यक्ति X की कुल आय रु.3600 प्रति माह मूल है, साथ ही मासिक वेतन पर परिवहन और भोजन भत्ता 10% है।</p>				
<p><b>Expenditure</b></p> <p>Statutory Deductions towards PF 12%</p> <p>Food 25%</p> <p>Medical &amp; Miscellaneous 13%</p> <p>House Rent 18%</p> <p>Education &amp; Maintenance of Children 23%</p> <p>Entertainment 9%</p>				
84	Calculate the amount of expenditure on Education and Maintenance per month, if a person X pays 23% of its total earnings as Education and Maintenance of children. प्रति माह शिक्षा और रखरखाव पर खर्च की मात्रा की गणना करें, अगर कोई व्यक्ति अपनी कुल कमाई का 23% शिक्षा और बच्चों के रखरखाव के रूप में चुकाता है।			
	(a)	(b)	(c)	(d)
	Rs.920 / रु. 920	Rs.915 / रु. 915	Rs.900 / रु. 900	Rs.910.80 / रु. 910.80
85	What is the approximate earning left of person X (in Rupees) per month after deducting payment of house rent? मकान के किराए के भुगतान में कटौती के बाद प्रति माह व्यक्ति X की अनुमानित कमाई (रुपए में) क्या है?			
	(a)	(b)	(c)	(d)
	Rs.3049.20 p.m. रु. 3049.20 प्रतिमाह	Rs.2589.40 p.m. रु. 2589.40 प्रतिमाह	Rs.3247.20 p.m. रु.3247.20 प्रतिमाह	Rs.2350.50 p.m. रु. 2350.50 प्रतिमाह
86	What is the total amount per month the family spends on house rent and statutory deductions towards PPF expenses? परिवारिक खर्चों के लिए परिवार द्वारा प्रति माह घर का किराया और वैधानिक कटौती पर कुल राशि कितनी है?			
	(a)	(b)	(c)	(d)
	Rs.1188 / रुपए 1188	Rs.1259 / रुपए 1259	Rs.1140 / रुपए 1140	Rs.1100 / रुपए 1100
<p>Directions for Q. No. 87 to 89: प्रश्न संख्या 87 से 89 के लिए दिशा-निर्देश:</p> <p>Study the following figures carefully to answer the following questions.</p>				

निम्नलिखित प्रश्नों के उत्तर देने के लिए निम्नलिखित आंकड़ों का ध्यानपूर्वक अध्ययन करें।

Percentage of students from different cities attending an interview, Total Students = 9000



Percentage of female students from different cities attending an interview, Total Female students = 3500



87 What is the total number of male students from Chennai and Bangalore together?  
चेन्नई और बेंगलूर के पुरुष छात्रों की कुल संख्या एक साथ कितनी है?

(a)	(b)	(c)	(d)
2480	2720	2610	2530

88 What is the respective ratio between the number of female students from Mumbai to the number of male students from the same?  
मुंबई से महिला छात्रों और मुंबई से पुरुष छात्रों की संख्या के बीच संबंधित अनुपात क्या है?

(a)	(b)	(c)	(d)
7:6	2:5	3:4	6:7

89 What is the respective ratio between the total number of female students from Mumbai and Pune to the total number of male students from the same?  
मुंबई और पुणे की कुल महिला छात्रों और मुंबई और पुणे के पुरुष छात्रों की संख्या के बीच का अनुपात क्या है?

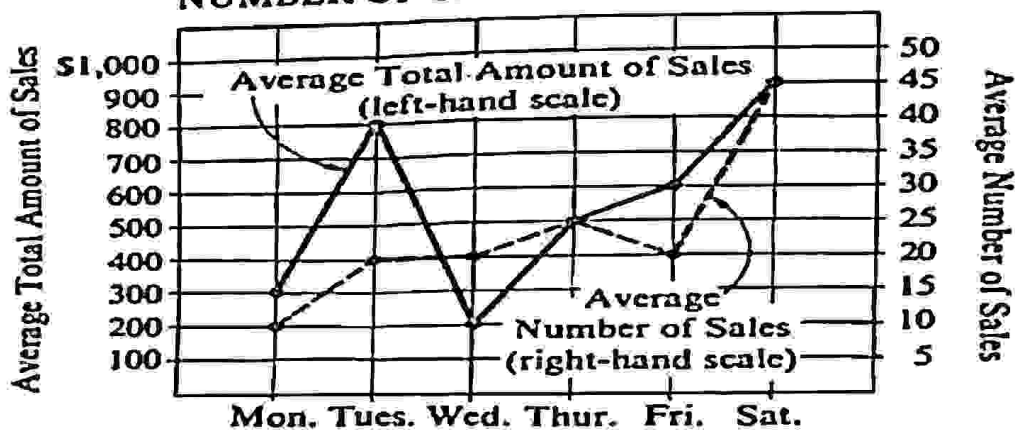
(a)	(b)	(c)	(d)
17:39	39:65	68:13	49:95

Directions for Q. No. 90 and 91:

Look at the Figure given below and answer the Q. No. 90 and 91.

नीचे दिए गए चित्र को देखें और प्रश्न संख्या 90 और 91 का उत्तर दें।

### AVERAGE\* DAILY TOTAL AMOUNT OF SALES AND NUMBER OF SALES FOR STORE X



\*"Average" means "arithmetic mean."

Note: Drawn to scale.

90 On the average, what is the total amount of sales per week (Monday through Saturday) for Store X?  
औसतन, स्टोर X के लिए प्रति सप्ताह (सोमवार से शनिवार) बिक्री की कुल राशि क्या है?

(a)	(b)	(c)	(d)
-----	-----	-----	-----



	\$3600	\$4400	\$3300	\$4800
91	During the first week of a certain month, how many more average sales were made in Store X on Saturday than on Monday? एक निश्चित महीने के पहले सप्ताह के दौरान, सोमवार की तुलना में शनिवार को स्टोर X में कितनी अधिक औसत बिक्री हुई?			
	(a)	(b)	(c)	(d)
	15	25	30	35

Directions for Q. No. 92 to 94:

प्रश्न संख्या 92 से 94 के लिए दिशा-निर्देश:

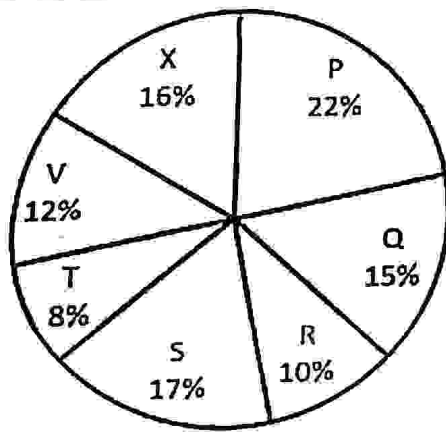
Study the following chart carefully and answer the questions given below:

Distribution of candidates who were enrolled for MBA entrance exam and the candidates (out of those enrolled) who passed the exam in different institutes:

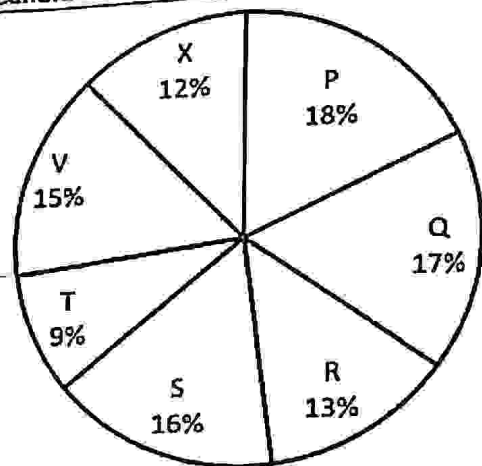
निम्नलिखित चार्ट का ध्यानपूर्वक अध्ययन करें और नीचे दिए गए प्रश्नों के उत्तर दें:

एमबीए प्रवेश परीक्षा के लिए नामांकित और विभिन्न संस्थानों में परीक्षा उत्तीर्ण करने वाले उम्मीदवारों (दाखिला लेने वालों को छोड़ कर) का वितरण:

Candidates enrolled = 8550



Candidates who passed the Exam = 5700



92	What percentage of candidates passed the Exam from institute T out of the total number of candidates enrolled from the same institute? T संस्थान से नामांकित कुल उम्मीदवारों में से कितने प्रतिशत उम्मीदवारों ने परीक्षा उत्तीर्ण की?			
	(a)	(b)	(c)	(d)
	75%	80%	88.8%	62.5%
93	Which institute has the highest percentage of candidates passed to the candidates enrolled? किस संस्थान में दाखिला लेने वाले उम्मीदवारों में सबसे अधिक उत्तीर्ण हुए हैं?			
	(a)	(b)	(c)	(d)
	Q	T	V	R
94	What is the percentage of candidates passed to the candidates enrolled for institutes Q and R together? संस्थानों Q और R के लिए नामांकित उम्मीदवारों के लिए उत्तीर्ण उम्मीदवारों का प्रतिशत क्या है?			
	(a)	(b)	(c)	(d)
	68%	74%	80%	65%

Directions for Question No.95 to 97:

प्रश्न संख्या 95 से 97 के लिए दिशा-निर्देश:

The following table gives the percentage of marks obtained by seven students in six different subjects in an examination. The Numbers in the Brackets give the Maximum Marks in Each Subject

निम्न तालिका एक परीक्षा में छह अलग-अलग विषयों में सात छात्रों द्वारा प्राप्त अंकों का प्रतिशत है। ब्रैकेट में नंबर प्रत्येक विषय में अधिकतम अंक हैं।

Student	Subject (Maximum Marks)					
	Maths.	Chemistry	Physics	Geography	History	Computer Science
	(150)	(130)	(120)	(100)	(60)	(40)
Ayush	90	50	90	60	70	80
Anan	100	80	80	40	80	70
Sajal	90	60	70	70	90	70
Rohit	80	65	80	80	60	60
Muskan	80	65	85	95	50	90
Tanvi	70	75	65	85	10	60
Tarun	65	35	50	77	80	80

95 What are the average marks obtained by all the seven students in Physics? (rounded off to two digit after decimal)

भौतिकी में सभी सात छात्रों द्वारा प्राप्त औसत अंक क्या हैं? (दशमलव के बाद दो अंकों तक)

(a)	(b)	(c)	(d)
89.14	91.37	96.11	77.26

96 The number of students who obtained 60% and above marks in all subjects is?

सभी विषयों में 60% और उससे अधिक अंक प्राप्त करने वाले छात्रों की संख्या कितनी है?

(a)	(b)	(c)	(d)
4	2	1	3

97 What is the overall percentage of Tarun? (तरुण का कुल प्रतिशत कितना है?)

(a)	(b)	(c)	(d)
55%	52.5%	63%	60%

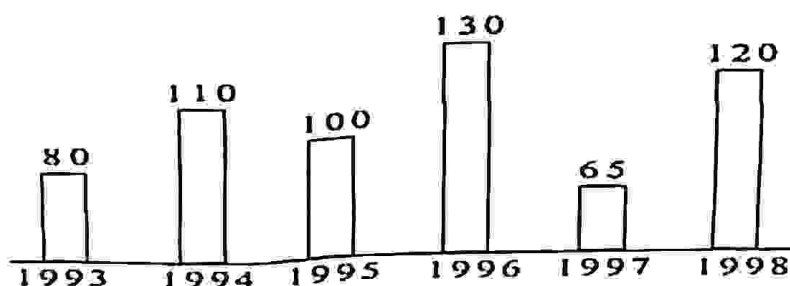
Directions for Q. No. 98 to 100:

प्रश्न संख्या 98 से 100 के लिए दिशा-निर्देश:

Study the following graph carefully and answer the questions given below it.

निम्नलिखित ग्राफ का ध्यानपूर्वक अध्ययन करें और नीचे दिए गए प्रश्नों के उत्तर दें।

**PRODUCTION OF FOODGRAIN OVER THE YEARS (1000 TONNES)**



98 In how many years was the production below the average production of the given years?

दिए गए वर्षों के औसत उत्पादन से कम उत्पादन कितने वर्षों में हुआ?

(a)	(b)	(c)	(d)
3	5	2	1

99 What was the approximate percentage increase in production from 1993 to 1994?

1993 से 1994 तक उत्पादन में अनुमानित प्रतिशत वृद्धि क्या थी?

(a)	(b)	(c)	(d)
30%	65%	90%	40%

100 In which year was the production 50% of the total production in 1993 and 1998 together?

	1993 और 1998 में कुल उत्पादन का 50% किस वर्ष में एक साथ हुआ था?			
	(a)	(b)	(c)	(d)
	1998	1995	1996	1994
101	A bank opened in SEZ in India comes under which category: भारत में एसईजेड में खोला गया बैंक किस श्रेणी में आता है:			
	(a)	(b)	(c)	(d)
	Domestic Banking घरेलू बैंकिंग	Offshore Banking ऑफशोर बैंकिंग	National Banking नेशनल बैंकिंग	International Banking इंटरनेशनल बैंकिंग
102	Which of the following is not the role of RBI: (निम्नलिखित में से कौन आरबीआई की भूमिका नहीं है)			
	(a)	(b)	(c)	(d)
	Bank to Government बैंक टू गवर्नमेंट	To accept deposit from public पब्लिक से डिपॉजिट स्वीकार करना	To be the bankers' bank बैंकरों का बैंक होना	All of these ये सभी
103	Mutual Funds are regulated in India by which among the following? भारत में म्यूचुअल फंड को किसके द्वारा विनियमित किया जाता है?			
	(a)	(b)	(c)	(d)
	Stock Exchanges स्टॉक एक्सचेंज	SEBI सेबी	RBI आरबीआई	RBI and SEBI both आरबीआई और सेबी दोनों
104	How increase in domestic exchange rate of a country will affect its imports and exports? किसी देश की घरेलू विनिमय दर में वृद्धि से उसके आयात और निर्यात पर क्या असर पड़ेगा?			
	(a)	(b)	(c)	(d)
	It will increase the demand for exports and decrease in demand for imports यह निर्यात की मांग को बढ़ाएगा और आयात की मांग में कमी करेगा	It will increase demand for import and decrease in demand for exports इससे आयात की मांग बढ़ेगी और निर्यात की मांग में कमी आएगी	It will increase demand for both imports and exports इससे आयात और निर्यात दोनों की मांग बढ़ेगी	Either a or b is possible या a या b संभव है
105	Which one of the following is not a capital market instrument? निम्नलिखित में से कौन एक पूंजी बाजार माध्यम नहीं है?			
	(a)	(b)	(c)	(d)
	Treasury bill ट्रेजरी बिल	Debentures डिबेंचर	Shares शेयर	Public sector bonds सार्वजनिक क्षेत्र के बांड
106	What is 'Green Banking'? ('ग्रीन बैंकिंग' क्या है?)			
	(a)	(b)	(c)	(d)
	Bank financing to irrigation सिंचाई के लिए बैंक वित्तपोषण	Bank financing to agriculture कृषि के लिए बैंक वित्तपोषण	Bank financing on pro-environment कृषि समर्थक पर्यावरण पर बैंक वित्तपोषण	All Bank financing to farmers किसानों को सभी बैंक वित्तपोषण
107	How are Micro, Small and Medium Enterprises (MSMEs) categorized? माइक्रो, स्मॉल और मीडियम एंटरप्राइजेज (MSMEs) कैसे वर्गीकृत हैं?			
	(a)	(b)	(c)	(d)
	On the basis of profit earned अर्जित लाभ के आधार पर	On the basis of Investment निवेश के आधार पर	On basis of basis of age of entrepreneur उद्यमी की आयु के आधार पर	None of these इनमें से कोई नहीं
108	Treasury Bills are : (ट्रेजरी बिल हैं:)			
	(a)	(b)	(c)	(d)
	Short-term liability of the producers and traders उत्पादकों और व्यापारियों की अल्पकालिक देयता	Long-term liability of the producers and traders उत्पादकों और व्यापारियों की दीर्घकालिक देयता	Short-term liability of the Government सरकार की अल्पकालिक देयता	Long-term liability of the Government सरकार की दीर्घकालिक देयता
109	APMC Act is related to : (APMC अधिनियम निम्नलिखित से संबंधित है:)			



(a)	(b)	(c)	(d)
Agriculture marketing in India भारत में कृषि विपणन	Institutional credit to agriculture in India भारत में कृषि के लिए संस्थागत ऋण	Non-institutional credit to agriculture in India भारत में कृषि के लिए गैर-संस्थागत ऋण	Irrigation facilities to agriculture in India भारत में कृषि के लिए सिंचाई की सुविधा
110	In Banking terminology, NPA means: (बैंकिंग शब्दावली में, NPA का अर्थ है:)		
(a)	(b)	(c)	(d)
Non-Promise Account नॉन-प्रॉमिस अकाउंट	Non-Performing Asset नॉन-परफॉर्मिंग एसेट	Non-Personal Account नॉन-पर्सनल अकाउंट	Net-performing Asset नेट-परफॉर्मिंग एसेट
111	Golden rule of fiscal policy in India is : (भारत में राजकोषीय नीति का स्वर्णिम नियम है:)		
(a)	(b)	(c)	(d)
Borrowing only for current expenditure केवल वर्तमान खर्च के लिए उधार लेना	Borrowing only for public investment केवल सार्वजनिक निवेश के लिए उधार लेना	Borrowing only for repayment our debt केवल हमारे कर्ज को चुकाने के लिए उधार लेना	Borrowing for budget expenditure बजट खर्च के लिए उधार लेना
112	The temporary tax levied to obtain additional revenue is called : अतिरिक्त राजस्व प्राप्त करने के लिए लगाया गया अस्थायी कर कहलाता है:		
(a)	(b)	(c)	(d)
Cess / उपकर	Penalty / जुर्माना	Surcharge / अधिभार	Fee / शुल्क
113	When the RBI announces an increase of the Cash Reserve Ratio, what does it mean? जब आरबीआई कैश रिज़र्व अनुपात में वृद्धि की घोषणा करता है, तो इसका क्या मतलब है?		
(a)	(b)	(c)	(d)
The commercial banks will have more money to lend वाणिज्यिक बैंकों के पास उधार देने के लिए अधिक पैसा होगा	The commercial banks will have less money to lend वाणिज्यिक बैंकों के पास उधार देने के लिए कम पैसा होगा	The Reserve Bank of India will have less money to lend भारतीय रिज़र्व बैंक के पास उधार देने के लिए कम पैसा होगा	The Union Government will have less money to lend केंद्र सरकार के पास उधार देने के लिए कम पैसा होगा
114	In 1991 India met with an economic crisis. Which of the following can be quoted as a reason for the same? 1991 में भारत में एक आर्थिक संकट आया। निम्नलिखित में से किसको उसी के कारण के रूप में उद्धृत किया जा सकता है?		
(a)	(b)	(c)	(d)
High level of foreign exchange reserve विदेशी मुद्रा आरक्षित का उच्च स्तर	The high level of external debt बाहरी ऋण का उच्च स्तर	Rising prices of essential goods आवश्यक वस्तुओं की बढ़ती कीमतें	Political instability राजनीतिक अस्थिरता
115	What is meant by 'White Label ATM'? ('व्हाइट लेबल एटीएम' से क्या अभिप्राय है?)		
(a)	(b)	(c)	(d)
ATM installed in Bank branches बैंक शाखाओं में स्थापित एटीएम	ATM installed outside Bank branches बैंक शाखाओं के बाहर स्थापित एटीएम	ATM installed by non banking companies गैर बैंकिंग कंपनियों द्वारा स्थापित एटीएम	Swipe machines installed at point of sale बिक्री के बिंदु पर स्थापित स्वाइप मशीनें
116	In a free economy, inequalities of income are mainly due to? एक स्वतंत्र अर्थव्यवस्था में, मुख्य रूप से आय की असमानताएं होती हैं?		
(a)	(b)	(c)	(d)
Free competition स्वतंत्र प्रतियोगिता	Private property and inheritance निजी संपत्ति और विरासत	Differences in the marginal productivity of labour श्रम की सीमान्त उत्पादकता में अंतर	Private property only केवल निजी संपत्ति

117	The 'India Aspiration Fund' by Small Industries Development Bank of India (SIDBI) is a fund: लघु उद्योग विकास बैंक (सिडबी) द्वारा 'भारत आकांक्षा कोष' एक निधि है:			
(a)	(b)	(c)	(d)	
that would invest in Venture Capital Funds वेंचर कैपिटल फंड में निवेश करेगा	for meeting the equity requirement of Medium, Small and Micro Enterprises मध्यम, लघु और सूक्ष्म उद्यमों की इक्विटी आवश्यकता को पूरा करने के लिए	that would invest in Research and Development at Indian Institutes of Technology भारतीय प्रौद्योगिकी संस्थानों में अनुसंधान और विकास में निवेश करेगा	for funding 'Innovative Startups' 'इनोवेटिव स्टार्टअप्स' के वित्तपोषण के लिए	
118	Real income means : (वास्तविक आय का मतलब है :)			
(a)	(b)	(c)	(d)	
The quantity of commodity purchase in inflation मुद्रास्फीति में वस्तु की खरीद की मात्रा	Income after deduction of Tax टैक्स की कटौती के बाद आय	The quantity of commodity that money income buys कमोडिटी की मात्रा जो आय से खरीदी जाती है	Money income – Tax + national security benefit आय - कर + राष्ट्रीय सुरक्षा लाभ	
119	To reduce the rate of inflation, the government should: महंगाई की दर को कम करने के लिए सरकार को चाहिए:			
(a)	(b)	(c)	(d)	
Increase public expenditure सार्वजनिक व्यय बढ़ाएँ	Encourage consumer spending उपभोक्ता व्यय को बढ़ाएँ	Increase income tax आयकर बढ़ाएँ	Reduce interest rate ब्याज दर कम करें	
120	Inter personal equity means: (इंटर पर्सनल इक्विटी का मतलब है:)			
(a)	(b)	(c)	(d)	
Equal treatment to equals समान उपचार समान क्षेत्रों में	Discriminative treatment to equals बराबर करने के लिए भेदभावपूर्ण उपचार	Equal distribution of health in two regions दो क्षेत्रों में स्वास्थ्य में समान वितरण	Equal recognition for two individuals दो व्यक्तियों के लिए समान मान्यता	
121	Consider the following statements with reference to "Bharat Padhe Online Campaign":- 1. NITI Aayog has launched this campaign for promoting online ecosystem in rural areas 2. This campaign will also promote available digital education platforms such as 'SHAGUN', 'Swayam', etc. Which of the statement(s) given above is / are correct? "भारत पढ़े ऑनलाइन अभियान" के संदर्भ में निम्नलिखित कथनों पर विचार करें: 1. निति आयोग ने ग्रामीण क्षेत्रों में ऑनलाइन पारिस्थितिकी तंत्र को बढ़ावा देने के लिए यह अभियान शुरू किया है 2. यह अभियान उपलब्ध डिजिटल शिक्षा प्लेटफार्मों जैसे कि 'शगुन', 'स्वयं', आदि को भी बढ़ावा देगा ऊपर दिए गए कथनों में से कौन सा / से कथन सही है?			
(a)	(b)	(c)	(d)	
1 only / केवल 1	2 only / केवल 2	Both 1 and 2 / दोनों	Neither 1 nor 2 / कोई नहीं	
122	In the year 2019 Nobel Economics Prize was awarded to Prof. Abhijit Banerjee, Esther Duflo and Michael Kremer for their research on :- वर्ष 2019 में नोबल इकोनॉमिक्स पुरस्कार प्रो. अभिजीत बनर्जी, एस्तेर डुफ्लो और माइकल क्रेमर को उनके शोध के लिए प्रदान किया गया:			
(a)	(b)	(c)	(d)	
For integrating climate change into long-run macroeconomic analysis जलवायु परिवर्तन को लंबे समय तक चलने वाले आर्थिक विवेक्षण में	For their experimental approach to alleviating global poverty वैश्विक गरीबी को कम करने के लिए उनके प्रयोगात्मक दृष्टिकोण	For their contributions to behavioural economics व्यवहार अर्थशास्त्र में उनके योगदान के लिए	For combating racism जातिवाद का मुकाबला करने के लिए	

एकीकृत करना		के लिए	
123	In New Education Policy 2020, the current 10+2 system to be replaced by a new curricular structure. Identify the structure of the new curricular. नई शिक्षा नीति 2020 में, वर्तमान 10+2 प्रणाली को एक नई पाठ्यक्रम संरचना द्वारा प्रतिस्थापित किया जाना है। नए पाठ्यक्रम की संरचना की पहचान करें।		
(a)		(b)	(c)
3+1+4+5		5+3+3+1	4+3+3+5
			(d)
			5+4+3+3
124	"Dare to Dream 2.0" Challenge is an innovation contest that aims to promote Indian innovators and start-ups, was launched recently by? 'डैयर टू ड्रीम 2.0' चैलेंज एक नवाचार प्रतियोगिता है जिसका उद्देश्य भारतीय नवाचारियों और स्टार्ट-अप्स को बढ़ावा देना है, हाल ही में लॉन्च किया गया था?		
(a)		(b)	(c)
NITI Aayog निती आयोग		Indian Space Research Organisation भारतीय अंतरिक्ष अनुसंधान संगठन	Council of Scientific and Industrial Research वैज्ञानिक और औद्योगिक अनुसंधान परिषद
			(d)
			Defence Research and Development Organization रक्षा अनुसंधान और विकास संगठन
125	Consider the following statements with respect to "Jal Jeevan Mission": 1. It aims to provide safe and adequate drinking water to all rural household by 2024 2. It aims to connect all rivers in India by 2025 3. It aims to provide irrigation water to all rural households by 2026 4. It aims to revive traditional water resources by 2027 Which of the statement given above is correct? "जल जीवन मिशन" के संबंध में निम्नलिखित कथनों पर विचार करें: 1. इसका उद्देश्य 2024 तक सभी ग्रामीण परिवारों को सुरक्षित और पर्याप्त पेयजन उपलब्ध कराना है 2. इसका लक्ष्य 2025 तक भारत की सभी नदियों को जोड़ना है 3. इसका उद्देश्य 2026 तक सभी ग्रामीण परिवारों को सिंचाई का पानी उपलब्ध कराना है 4. यह 2027 तक पारंपरिक जल संसाधनों को पुनर्जीवित करने का लक्ष्य रखता है ऊपर दिए गए कथनों में से कौन सा कथन सही है?		
(a)		(b)	(c)
1 only / केवल 1		2 only / केवल 2	3 only / केवल 3
			(d)
			4 only / केवल 4
126	Consider the following statements with respect to AYUSH Sanjivani App :- 1. It will help to generate data on acceptance and usage of AYUSH advocacies and measures among the population and its impact in prevention of COVID 19 2. It is developed by Ministry of AYUSH and Ministry of Electronics and Information Technology Which of the above statement(s) is / are correct? आयुष मंजीवनी ऐप के संबंध में निम्नलिखित कथनों पर विचार करें :- 1. यह COVID 19 की रोकथाम में आयुष अधिवक्ताओं की स्वीकृति और उपयोग और जनसंख्या के बीच उपायों और इसके प्रभाव पर डेटा उत्पन्न करने में मदद करेगा 2. यह आयुष मंत्रालय और इलेक्ट्रॉनिक्स और सूचना प्रौद्योगिकी मंत्रालय द्वारा विकसित किया गया है ऊपर दिए गए कथनों में से कौन सा कथन सही है?		
(a)		(b)	(c)
1 only / केवल 1		2 only / केवल 2	3 only / केवल 3
			(d)
			Both 1 & 2 / दोनों
127	Operation Namaste, often seen in the news recently is associated with which of the following? 1. Launched by the Indian Army to combat the spread of COVID-19 2. Launched by the National Disaster Response Force to combat the spread of COVID-19 3. Launched by the Indian Council of Medical Research to combat the spread of COVID-19 4. Launched by the Indian Air Force to combat the spread of COVID-19 ऑपरेशन नमस्ते, अक्सर समाचार में देखा जाता है निम्नलिखित में से किसके साथ जुड़ा हुआ है? 1. COVID -19 के प्रसार का मुकाबला करने के लिए भारतीय सेना द्वारा शुरू किया गया 2. COVID-19 के प्रसार का मुकाबला करने के लिए राष्ट्रीय आपदा प्रतिक्रिया बल द्वारा शुरू किया गया		



3. COVID-19 के प्रसार का मुकाबला करने के लिए भारतीय चिकित्सा अनुसंधान परिषद द्वारा शुरू किया गया			
4. COVID -19 के प्रसार का मुकाबला करने के लिए भारतीय वायु सेना द्वारा शुरू किया गया			
(a)	(b)	(c)	(d)
1 only / केवल 1	2 only / केवल 2	3 only / केवल 3	4 only / केवल 4
128	<p>Consider the following statements with respect to GOAL Programme, which was launched recently:-</p> <ol style="list-style-type: none"> <li>1. The program aims to enable Scheduled Tribe (ST) youth in remote areas to use digital platforms for sharing their aspirations, dreams and talent with their mentors</li> <li>2. The programme was launched by the Ministry of Tribal Affairs in partnership with Google India</li> </ol> <p>Which of the above statement(s) is / are correct?</p> <p>GOAL कार्यक्रम के संबंध में निम्नलिखित कथनों पर विचार करें, जिसे हाल ही में लॉन्च किया गया था: -</p> <ol style="list-style-type: none"> <li>1. इस कार्यक्रम का उद्देश्य दूरस्थ क्षेत्रों में अनुसूचित जनजाति (एसटी) के युवाओं को अपने गुरुओं के साथ अपनी आकांक्षाओं, सपनों और प्रतिभा को साझा करने के लिए डिजिटल प्लेटफार्मों का उपयोग करने में सक्षम बनाना है</li> <li>2. कार्यक्रम का शुभारंभ जनजातीय मामलों के मंत्रालय द्वारा Google India के साथ साझेदारी में किया गया था</li> </ol> <p>उपरोक्त कथन में से कौन सा सही है / हैं?</p>		
(a)	(b)	(c)	(d)
1 only / केवल 1	2 only / केवल 2	Both 1 and 2 / दोनों	3 only / केवल 3
129	<p>Consider the following statements :-</p> <ol style="list-style-type: none"> <li>1. Contribution made to 'PM CARES Fund' shall qualify as CSR expenditure</li> <li>2. Contribution to 'Chief Minister's Relief Fund' or 'State Relief Fund' for COVID-19 is not qualify as admissible CSR expenditure</li> </ol> <p>Which of the above statement(s) is / are correct?</p> <p>निम्नलिखित कथनों पर विचार करें: -</p> <ol style="list-style-type: none"> <li>1. 'पीएम केयर फंड' में किया गया योगदान सीएसआर खर्च के रूप में योग्य होगा</li> <li>2. COVID-19 के लिए 'मुख्यमंत्री राहत कोष' या 'राज्य राहत कोष' का योगदान स्वीकार्य CSR खर्च के रूप में योग्य नहीं है</li> </ol> <p>उपरोक्त कथनों में से कौन सा सही है / हैं?</p>		
(a)	(b)	(c)	(d)
1 only / केवल 1	2 only / केवल 2	Both 1 and 2 / दोनों	Neither 1 nor 2 / कोई नहीं
130	<p>The recently promulgated ordinance, which seeks to punish the persons committing violence against healthcare professionals fighting Covid-19 amends which act?</p> <p>हाल ही में प्रख्यापित अध्यादेश, जो Covid-19 के खिलाफ लड़ने वाले स्वास्थ्य पेशेवरों के खिलाफ हिंसा करने वाले व्यक्तियों को दंडित करना चाहता है, कौन सा अधिनियम / एक्ट है?</p>		
(a)	(b)	(c)	(d)
Epidemic Disease Act, 1897 महामारी रोग एक्ट, 1897	Medical Protection Act (MPA) चिकित्सा सुरक्षा एक्ट (MPA)	Indian Medical Council Act, 1956 इंडियन मेडिकल काउंसिल एक्ट, 1956	Protection of Healthcare Worker Act, 1982 हेल्थकेयर वर्कर संरक्षण एक्ट, 1982
131	<p>Consider the following statements about UNDP's Human Development Index (HDI) :-</p> <ol style="list-style-type: none"> <li>1. HDI is scored using indicators including life expectancy, per capita income, and education</li> <li>2. HDI is ranked on a scale from 0 to 1.0, with 1.0 being the highest human development</li> <li>3. HDI was first launched in 1990 and since then released annually</li> <li>4. As per HDI 2020 the top nation on the list is Norway</li> </ol> <p>Which of the above is / are correct?</p> <p>यूएनडीपी के मानव विकास सूचकांक (एचडीआई) के बारे में निम्नलिखित कथनों पर विचार करें: -</p> <ol style="list-style-type: none"> <li>1. एचडीआई को जीवन प्रत्याशा, प्रति व्यक्ति आय और शिक्षा सहित संकेतकों का उपयोग करके बनाया जाता है</li> <li>2. एचडीआई को 0 से 1.0 के पैमाने पर रैंक किया गया है, जिसमें 1.0 सबसे अधिक मानव विकास है</li> <li>3. एचडीआई को पहली बार 1990 में लॉन्च किया गया था और तब से इसे सालाना जारी किया गया था</li> <li>4. एचडीआई 2020 के अनुसार सूची में शीर्ष देश नॉर्वे है</li> </ol>		

	उपरोक्त में से कौन सा सही है / हैं?			
	(a)	(b)	(c)	(d)
	1 and 2 only 1 और 2	1 and 3 only 1 और 3 केवल	1, 2 and 3 1, 2 और 3	All are correct सब सही हैं
132	<p>Consider the following statements about the concept of 'Sustainable Development': -</p> <ol style="list-style-type: none"> <li>1. In 1987 the report 'Our Common Future' was published</li> <li>2. It was published by the World Commission on Environment and Development (WCED)</li> <li>3. It is popularly known as Brundtland Commission</li> <li>4. The report set the foundation of sustainable development</li> </ol> <p>Which of the above statement(s) is / are correct?</p> <p>'सतत विकास' की अवधारणा के बारे में निम्नलिखित कथनों पर विचार करें: -</p> <ol style="list-style-type: none"> <li>1. 1987 में रिपोर्ट 'हमारा आम भविष्य' प्रकाशित हुई</li> <li>2. यह पर्यावरण और विकास पर विश्व आयोग (WCED) द्वारा प्रकाशित किया गया था</li> <li>3. यह लोकप्रिय रूप से ब्रुन्डलैंड कमीशन के रूप में जाना जाता है</li> <li>4. रिपोर्ट ने सतत विकास की नींव रखी</li> </ol> <p>उपरोक्त कथन में से कौन सा सही है / हैं?</p>			
	(a)	(b)	(c)	(d)
	1 and 2 only 1 और 2	1 and 3 only 1 और 3 केवल	1, 2 and 3 1, 2 और 3	All are correct सब सही हैं
133	<p>Consider the following statements about The Global Snow Leopard and Ecosystem Protection Program (GSLEP) : -</p> <ol style="list-style-type: none"> <li>1. It is world's first joint initiative that aims to conserve the snow leopard</li> <li>2. All 12 snow leopard range countries are a part of this initiative</li> <li>3. The initiative aims to secure at least 20 snow leopard landscapes by 2020</li> </ol> <p>Which of the above is / are correct?</p> <p>ग्लोबल स्नो लेपर्ड एंड इकोसिस्टम प्रोटेक्शन प्रोग्राम (GSLEP) के बारे में निम्नलिखित कथनों पर विचार करें: -</p> <ol style="list-style-type: none"> <li>1. यह दुनिया की पहली संयुक्त पहल है जिसका उद्देश्य हिम तेंदुए का संरक्षण करना है</li> <li>2. सभी 12 स्नो लेपर्ड रेंज के देश इस पहल का एक हिस्सा हैं</li> <li>3. पहल का उद्देश्य 2020 तक कम से कम 20 हिम तेंदुए के परिदृश्य को सुरक्षित करना है</li> </ol> <p>उपरोक्त में से कौन सा सही है / हैं?</p>			
	(a)	(b)	(c)	(d)
	1 and 2 only 1 और 2	1 and 3 only 1 और 3 केवल	2 and 3 only 2 और 3 केवल	1, 2 and 3 1, 2 और 3
134	<p>Consider the following statements with respect to World Heritage Day, 2020: -</p> <ol style="list-style-type: none"> <li>1. It is celebrated every year to preserve the human heritage and recognize the efforts of the organizations working for it</li> <li>2. The theme for the World Heritage Day is decided by the UNESCO every year</li> <li>3. Shared Cultures, Shared Heritage, Shared Responsibility is the theme of World Heritage Day, 2020</li> </ol> <p>Which of the above is / are correct?</p> <p>विश्व विरासत दिवस, 2020 के संबंध में निम्नलिखित कथनों पर विचार करें: -</p> <ol style="list-style-type: none"> <li>1. यह हर मानव विरासत को संरक्षित करने और इसके लिए काम करने वाले संगठनों के प्रयासों को पहचानने के लिए मनाया जाता है</li> <li>2. विश्व धरोहर दिवस की थीम हर साल यूनेस्को द्वारा तय की जाती है</li> <li>3. साझा संस्कृति, साझा विरासत, साझा जिम्मेदारी विश्व विरासत दिवस, 2020 का विषय है</li> </ol> <p>उपरोक्त में से कौन सा सही है / हैं?</p>			
	(a)	(b)	(c)	(d)
	1 only / केवल 1	1 and 2 only (1 और 2 केवल)	1 and 3 only (1 और 3 केवल)	1, 2 and 3 (1, 2 और 3)
135	<p>E-2020 initiative, launched by the World Health Organization (WHO), is regarding:</p> <p>विश्व स्वास्थ्य संगठन (डब्ल्यूएचओ) द्वारा शुरू की गई ई-2020 पहल किसके बारे में है:</p>			

(a)	(b)	(c)	(d)
Anti-biotic resistance एंटीबायोटिक प्रतिरोध	Malaria elimination मलेरिया उन्मूलन	Tackling health issues arising from e-waste ई-कचरे से उत्पन्न स्वास्थ्य संबंधी समस्याओं का सामना करना	Disbursement of electronic aids to the differently abled in developing countries विकासशील देशों में इलेक्ट्रॉनिक एड्स का निःशुल्क वितरण
136	"I Commit" initiative which was in news recently is: - ("मैं प्रतिबद्ध" पहल जो हाल ही में खबरों में थी:-)		
(a)	(b)	(c)	(d)
To create a robust and resilient energy system in the future भविष्य में एक मजबूत और लचीला ऊर्जा प्रणाली बनाना	An e-commerce marketing platform for MSMEs to market and sell their products MSMEs के लिए अपने उत्पादों के विपणन और बिक्री के लिए एक ई-कॉमर्स विपणन मंच	To develop urban forest and conservation of environment शहरी वन विकसित करना और पर्यावरण का संरक्षण करना	None of these इनमें से कोई नहीं
137	<p>Consider the following statements with respect to World Food Prize, 2020: -</p> <ol style="list-style-type: none"> <li>1. It aims to recognize scientists and others who have improved the quality and availability of food</li> <li>2. It has been awarded annually by the Food and Agriculture Organization (FAO)</li> <li>3. Dr. M.S. Swaminathan, the father of India's green revolution, was the first recipient of this award in 1987</li> </ol> <p>Which of the above is / are correct?</p> <p>विश्व खाद्य पुरस्कार, 2020 के संबंध में निम्नलिखित कथनों पर विचार करें: -</p> <ol style="list-style-type: none"> <li>1. इसका उद्देश्य वैज्ञानिकों और अन्य लोगों को पहचानना है जिन्होंने भोजन की गुणवत्ता और उपलब्धता में सुधार किया है</li> <li>2. इसे खाद्य और कृषि संगठन (एफएओ) द्वारा प्रतिवर्ष सम्मानित किया जाता है</li> <li>3. डॉ. एम.एस. स्वामीनाथन भारत की हरित क्रांति के जनक 1987 में इस पुरस्कार के पहले प्राप्तकर्ता थे</li> </ol> <p>उपरोक्त में से कौन सा सही है / हैं?</p>		
(a)	(b)	(c)	(d)
2 Only / केवल 2	1 and 3 only (1 और 3 केवल)	2 and 3 only (2 और 3 केवल)	1, 2 and 3 (1, 2 और 3)
138	<p>In context with the release of the Global Wealth Report, consider the following statements about wealth distribution:</p> <ol style="list-style-type: none"> <li>1. US has the most people in the top 10% of the global wealth distribution.</li> <li>2. Most of the global wealth is owned by the richest 10% at the top.</li> </ol> <p>Select the correct option(s)</p> <p>वैश्विक धन रिपोर्ट जारी करने के संदर्भ में, धन वितरण के बारे में निम्नलिखित कथनों पर विचार करें:</p> <ol style="list-style-type: none"> <li>1. वैश्विक धन वितरण के शीर्ष 10% में अमेरिका के सबसे अधिक लोग हैं</li> <li>2. अधिकांश वैश्विक धन का स्वामित्व शीर्ष पर सबसे अमीर 10% के पास है।</li> </ol> <p>सही विकल्प चुनें:</p>		
(a)	(b)	(c)	(d)
Only 1 is correct केवल 1 सही है	Only 2 is correct केवल 2 सही है	Neither 1 nor 2 is correct न तो 1 और न ही 2 सही है	Both 1 and 2 are correct 1 और 2 दोनों सही हैं
139	<p>Which of the following countries banned the single-use plastics from 2021?</p> <p>निम्नलिखित में से किस देश ने 2021 से एकल-उपयोग वाले प्लास्टिक पर प्रतिबंध लगा दिया?</p>		
(a)	(b)	(c)	(d)
USA (संयुक्त राज्य अमेरिका)	Canada (कनाडा)	Germany (जर्मनी)	India (भारत)
140	<p>'Umbrella Movement' belongs to which country? ("छाता आंदोलन" किस देश से संबंधित है?)</p>		
(a)	(b)	(c)	(d)
Taiwan / ताइवान	Hong Kong / हांगकॉंग	France / फ्रांस	Singapore / सिंगापुर
141	<p>Which of the following combination is not correct? निम्नलिखित में से कौन सा संयोजन सही नहीं है?</p>		



	(a) Choordhar (चूड़धार)	- The inner Himalayas (आन्तरिक हिमालय)		
	(b) Manak Parbat (मानक पर्वत)	- The outer Himalayas (बाह्य हिमालय)		
	(c) Shilla Peak (शिला चोटी)	- The Greater Himalayas (बृहद हिमालय)		
	(d) Dhauladhar (धौलाधार)	- The Greater Himalayas (बृहद हिमालय)		
	(a)	(b)	(c)	(d)
142	Which of the following is the biggest natural lake in Himachal Pradesh? निम्नलिखित में से कौन हिमाचल प्रदेश की सबसे बड़ी प्राकृतिक झील है?			
	(a)	(b)	(c)	(d)
	Prashar Lake पराशर झील	Chander Tal Lake चंद्र ताल झील	Rewalsar Lake रिवालसर झील	Renuka Lake रेणुका झील
143	Match List-I and List-II and select the correct answer from the codes given below: सूची-I और सूची-II का मिलान करें और नीचे दिए गए कोड से सही उत्तर चुनें:			
	List-I (सूची-I)	List-II (सूची-II)		
	(i) Baralacha Pass बारालाचा पास	(A) Ritanka Jot रितांक जोत		
	(ii) Kunjum Pass कुंजम पास	(B) Most convenient trekking route into Pangti Valley पांग्ती घाटी में सबसे सुविधाजनक ट्रेकिंग मार्ग है		
	(iii) Rohtang Pass रोहतांग दर्रा	(C) Main approach to Spiti from Lahaul लाहौल में स्पीति के लिए मुख्य मार्ग		
	(iv) Saezh Pass साच पास	(D) Pass with crossroads on summit चोटी पर चौराहे वाला दर्रा		
	Codes (कोड):			
	(i)	(ii)	(iii)	(iv)
	(a) D	C	A	B
	(b) A	B	C	D
	(c) D	C	B	A
	(d) D	A	C	B
144	'Chuba', 'Banjug' and 'Siring Kingar' is a traditional dress of which of the following tribe? 'चुबा', 'बंजुग' और 'मेरिंग किंगर' निम्नलिखित में से किस जनजाति की पारंपरिक पोशाक है?			
	(a)	(b)	(c)	(d)
	Gaddi (गद्दी)	Khampa (खाम्पा)	Swangla (स्वांगला)	Pangwal (पंगवाल)
145	Which of the following combination is not correct? निम्नलिखित में से कौन सा संयोजन सही नहीं है?			
	(a) Renuka Lake (रेणुका झील) - Jamdagni (जमदाग्नि)			
	(b) Nirmand (निरमंड) - Parshuram (परशुराम)			
	(c) Manikaran (मनिकरण) - Rishi Vashistha (ऋषि वशिष्ठ)			
	(d) Mandi (मंडी) - Rishi Vyas (ऋषि व्यास)			
146	Who built the famous 'Rang Mahal' palace at Bilaspur which later submerged in Govindsagar? बिलासपुर में प्रसिद्ध 'रंग महल' किसने बनवाया था जो बाद में गोविंदसागर में डूब गया?			
	(a)	(b)	(c)	(d)
	Raja Mahan Chand राजा महान चंद्र	Raja Bhim Chand राजा भीम चंद्र	Raja Bir Chand राजा बीर चंद्र	Raja Bijai Chand राजा विजय चंद्र
147	Match List I and List II and select the correct answer from the codes given below:- सूची-I और सूची-II का मिलान करें और नीचे दिए गए कोड से सही उत्तर चुनें:			
	List-I (सूची-I)	List-II (सूची-II)		
	(i) Master Mitrasen मास्टर मित्रसेन	(A) A renowned painter of Kangra Miniatures कांगड़ा लघुचित्रों के प्रसिद्ध चित्रकार		

	(ii) O.P. Tak ओ.पी. टाक	(B) A freedom fighter, hanged in Delhi in 1945 1945 में दिल्ली में एक स्वतंत्रता सेनानी को फांसी दी गई			
	(iii) Dal Bahadur दल बहादुर	(C) Member of constituent assembly घटक विधानसभा के सदस्य			
	(iv) Captain Ram Singh कप्तान राम सिंह	(D) Social reformer, poet and dramatist समाज सुधारक, कवि और नाटककार			
	(E) Music Director of the INA of Netaji Bose नेताजी बोस के आईएनए के संगीत निर्देशक				
	Codes (कूट):				
	(i)	(ii)	(iii)	(iv)	
(a)	D	A	B	E	
(b)	D	A	B	C	
(c)	D	B	E	C	
(d)	D	C	A	B	

148	'Dana Aghe' was name of which of the following place in the past? 'दान अघे' अतीत में निम्नलिखित में से किस स्थान का नाम था?			
	(a)	(b)	(c)	(d)
	Manali (मनाली)	Kullu (कुल्लू)	Bhuntar (भुंतर)	Bajaura (बजौरा)

149	To promote organic farming a scheme has been started in the State of H.P. Name of the scheme is: जैविक खेती को बढ़ावा देने के लिए राज्य में एक योजना शुरू की गई है, योजना का नाम बताइये:			
	(a)	(b)	(c)	(d)
	Prakritik Kheti Khush-hall Kissan प्राकृतिक खेती खुश हॉल किसान	Prakritik Kheti Khush-hall Pradesh प्राकृतिक खेती खुश हॉल प्रदेश	Prakritik Desh Prakritik Pradesh प्राकृतिक देश प्राकृतिक प्रदेश	Prakritik Kheti Prakritik Desh प्राकृतिक खेती प्राकृतिक देश

150	Which of the new scheme has been launched by the Govt. of H.P. with a view to provide water for irrigation where check dams and ponds will be constructed? कौन सी नई योजना एच.पी. सरकार द्वारा चेकडैम और तालाबों का निर्माण करके सिंचाई के लिए पानी उपलब्ध कराने की दृष्टि से शुरू की गई है?			
	(a)	(b)	(c)	(d)
	Jal Hai to Krishi Hai Yojna जल है तो कृषि है योजना	Jal Dhan Yojna जल धन योजना	Jal Se Krishi Ko Bal Yojna जल से कृषि को बल योजना	Krishi Sinchayee Yojna कृषि सिंचाई योजना